






1. Wpisz liczby na listkach tak, by suma liczb zapisanych na obu listkach była równa liczbie, zapisanej na kwiatku.



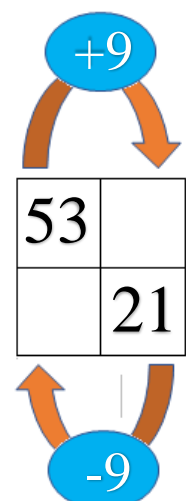

2. Na grządce zakwitło 16 żonkili i 11 tulipanów.
Krzyś zerwał z grządki 9 kwiatów.
Ile kwiatów zostało na grządce?



Obliczenia:

Odp.:

3. Uzupełnij tabelki:



Oceń swoją pracę! Postaw „+” w odpowiednich miejscach w tabelce.

	Doskonale!	Dobrze!	Muszę jeszcze popracować!
Znajduję brakujący składnik działania do podanego wyniku			
Uważnie odczytuję treść zadania tekstowego i wyszukuję w nim potrzebne dane			
Tworzę odpowiednie działanie, obliczam je i zapisuję odpowiedź			
Dodaję i odejmuję liczby jedno – i dwucyfrowe w zakresie 100			