

1. Połącz liniami obrazki z pasującymi do nich działaniami. Oblicz i zapisz wyniki.



$2 + 3 =$

$3 + 3 =$



$7 - 4 =$

$7 - 6 =$



$4 + 3 =$



$6 - 2 =$



2. Wykonaj rysunki do działań. Oblicz i zapisz wyniki.

$2 + 4 =$

$7 - 5 =$



3. Było 6 babeczek. Zosia zjadła 3. Ile babeczek zostało?



4. Są

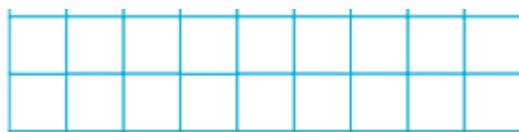


i









.

Ile jest razem zwierząt?



Oceń swoją pracę! Pokoloruj gwiazdkę w odpowiednim miejscu w tabelce

	Umiem!	Muszę jeszcze popracować!
Odróżniam od siebie działania na dodawanie i odejmowanie.		
Rozwiązuję działania na dodawanie i odejmowanie i wpisuję odpowiedni wynik		
Dopasowuję działanie do pasującej sytuacji na obrazku		
Tworzę odpowiednie działanie na podstawie zadania tekstowego	