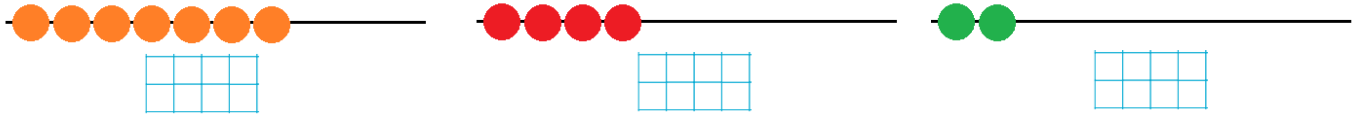
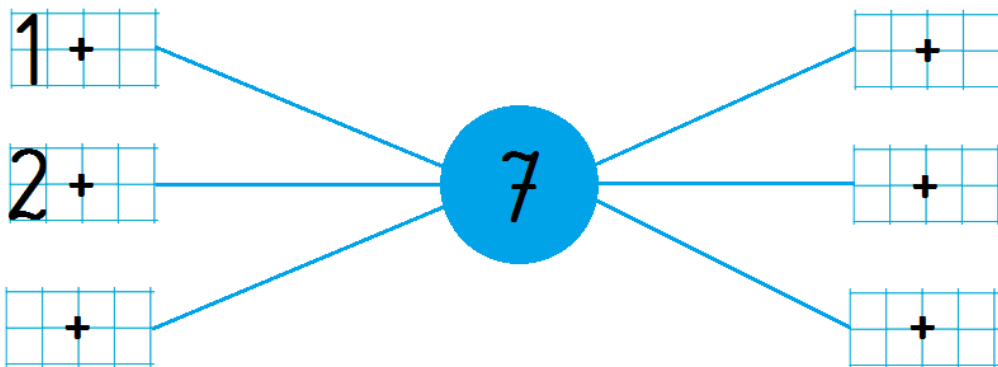


Dodawanie i odejmowanie. Klasa 1.

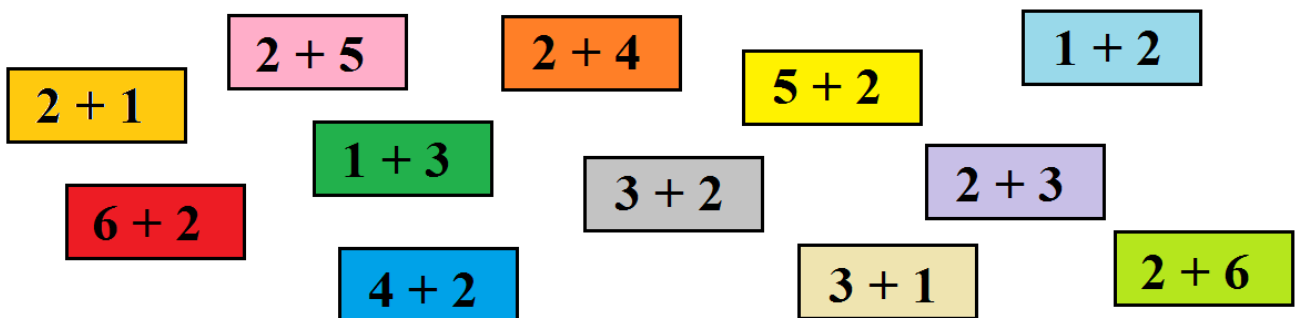
1. Zosia robi naszyjniki. Każda powinna mieć 9 koralików. Ile koralików brakuje w pierwszym, drugim, a ile w trzecim naszyjniku? Dorysuj brakujące koraliki. W kratki wpisz, ile koralików narysowałeś.



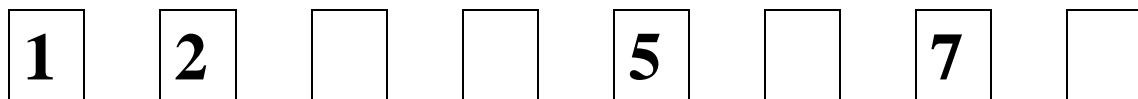
2. Uzupełnij działania tak, żeby wynik był równy 7.



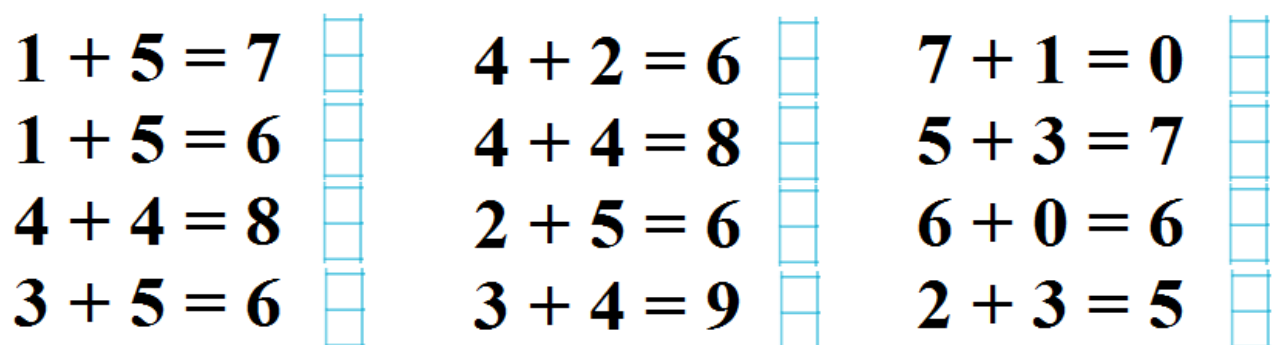
3. Połącz liniami działania, które mają ten sam wynik.











4. Uzupełnij brakujące liczby, zgodnie z zauważoną zasadą.



5. Czy wynik jest poprawny? Jeśli tak, napisz , jeśli nie, przekreśl i napisz poprawny.



Oceń swoją pracę! Pokoloruj gwiazdkę w odpowiednim miejscu w tabelce

|   | <b>Umiem!</b>  | <b>Muszę jeszcze popracować!</b>   |
|---|--|--|
| <b>Odróżniam od siebie działania na dodawanie i odejmowanie.</b>                  |   |   |
| <b>Rozwiązuję działania na dodawanie i odejmowanie i wpisuję odpowiedni wynik</b> |   |   |
| <b>Dopasowuję do siebie działania, mające te same wyniki</b>                      |   |   |
| <b>Sprawdzam wyniki działań i poprawiam błędne</b>                                |  |  |