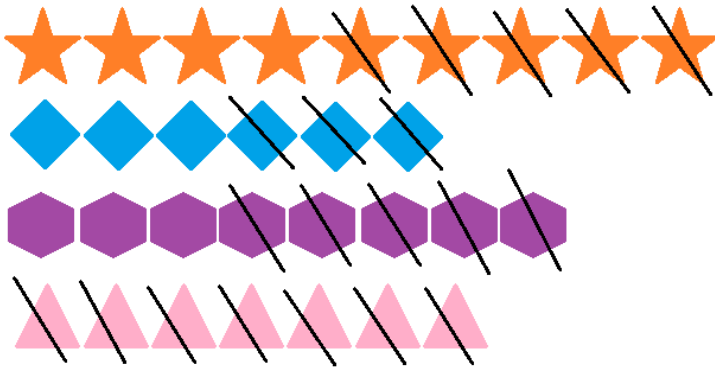


Odejmowanie. Klasa 1

1. Kasia miała 9 złotych. Kupiła ciasteczka za 3 złote. Ile złotych zostało Kasi?  
Skreśl pieniądze, które wydała Kasia i zapisz działanie.



2. Dobierz rysunek do działania i uzupełnij wyniki odejmowania.



$$8 - 5 = \begin{array}{|c|c|} \hline & \\ \hline & \\ \hline \end{array}$$
$$7 - 7 = \begin{array}{|c|c|} \hline & \\ \hline & \\ \hline \end{array}$$
$$9 - 5 = \begin{array}{|c|c|} \hline & \\ \hline & \\ \hline \end{array}$$
$$6 - 3 = \begin{array}{|c|c|} \hline & \\ \hline & \\ \hline \end{array}$$

3. Odejmuj tyle, ile wskazuje strzałka. Wpisz wyniki w kratki.











4. Wstaw znak + lub - tak, żeby wynik był poprawny.

6	6 = 0
7	2 = 9
4	3 = 7
4	3 = 1

1	5 = 6
3	3 = 6
3	3 = 0
6	1 = 5

4	3 = 1
6	2 = 8
5	3 = 8
8	4 = 4

Oceń swoją pracę! Pokoloruj gwiazdkę w odpowiednim miejscu w tabelce

	<b>Umiem!</b>	<b>Muszę jeszcze popracować!</b>
<b>Odróżniam od siebie działania na dodawanie i odejmowanie.</b>		
<b>Rozwiązuję działania na dodawanie i odejmowanie i wpisuję odpowiedni wynik</b>		
<b>Uzupełniam działania brakującymi znakami dodać i odjąć</b>		
<b>Dopasowuję działania do odpowiadającym im rysunkom</b>		
<b>Rozwiązuję zadanie tekstowe</b>	