



Porównywanie różnicowe: tyle razy mniej. Klasa 3

Mam 15 cukierków




Maja




15

Ja mam o 3 cukierki mniej niż ty, Maju.




Adaś




$15 - 3 = 12$

A ja mam 3 razy mniej cukierków niż ty, Maju.



Maks



$15 : 3 = 5$

Zapamiętaj!


Gdy mówimy o 3 mniej, to odejmujemy 3.

Gdy mówimy 3 razy mniej, to dzielimy przez 3.

1. Pod każdą liczbą w tabeli zapisz liczbę 7 razy mniejszą.

21	28	49	35	63	70	56	14

2. Julia ma 18 liści klonowych i 6 razy mniej liści dębowych. Ile liści dębowych ma Julia? Narysuj odpowiednią ilość dębowych liści w pustej ramce





3. Wpisz takie liczby do tabeli, aby liczba na dole była 5 razy mniejsza od liczby na górze.

45		25		55		5	
	8		6		7		12

Oceń swoją pracę! Postaw „+” w odpowiednich miejscach w tabelce.

	Doskonale!	Dobrze!	Muszę jeszcze popracować!
Rozumiem, co oznacza „o tyle mniej”, „tyle razy mniej” i rozróżniam te wyrażenia			
Uważnie odczytuję treść zadania tekstowego i wyszukuję w nim potrzebne dane			
Tworzę odpowiednie działanie, obliczam je i formułuję odpowiedź.			
Uzupełniam tabelę liczbami „ile razy mniejszymi” od podanych			