


1. Wykonaj działania i połącz je z właściwymi wynikami pod zwierzętami.



9 8 6

$4 + 2$ $8 - 2$ $1 + 8$ $5 + 3$ $2 + 7$

$7 + 1$ $2 + 6$ $4 + 5$ $9 - 1$ $9 - 3$

2. Wykonaj obliczenia.

$6 + 3 = \bigcirc$ $8 - 4 = \bigcirc$ $7 + 2 = \bigcirc$

3. Na film „Kopciuszek” w kasie zostało 5 biletów. Przed samym przedstawieniem kasjerka sprzedała jeszcze 4 bilety. Ile biletów nie zostało sprzedanych? Wybierz poprawne działanie. Niepoprawne działania skreśl. Oblicz wynik. Uzupełnij odpowiedź.







$9 - 5 =$

$5 - 4 =$







$5 + 4 =$

Odpowiedź: Nie został sprzedany bilet.

4. Dorysuj odpowiednią liczbę oczek na kostek domina lub wpisz właściwe liczby w kółka.

\bigcirc	7	9
		
8	\bigcirc	6
		

Oceń swoją pracę! Pokoloruj gwiazdkę w odpowiednim miejscu w tabelce

	Umiem!	Muszę jeszcze popracować!
Odróżniam od siebie działania na dodawanie i odejmowanie.		
Rozwiązuję działania na dodawanie i odejmowanie i wpisuję odpowiedni wynik		
Uważnie odczytuję treść zadania tekstowego i wyszukuję w nim potrzebne dane.		
Tworzę odpowiednie działanie, obliczam je i formułuję odpowiedź.	