


Opracowała Ewa Wysocka, karta pracy nr 2, klasa 3, temat: „Wiem, co oznacza wiek.”

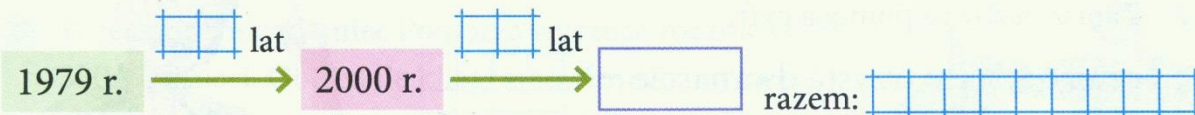
21,04,2020

Wpisz prawidłowe odpowiedzi w pola oznaczone znakami zapytania. Możesz to zrobić bezpośrednio w pliku, bez jego drukowania.

W zadaniach 1–2 możesz posłużyć się osią czasu.



1 Mama Kasi urodziła się w 1979 r. Uzupełnij graf i oblicz, ile obecnie ma lat.



- Tata Kasi jest o 2 lata młodszy od mamy. Napisz, w którym roku się urodził.
-

2 Człowiek pierwszy raz stanął na Księżycu w 1969 r. Dziadek Kamila miał wtedy 19 lat. Oblicz, ile lat ma obecnie dziadek.




3 Na ziemiach polskich obowiązek chodzenia do szkoły przez każde dziecko został ustanowiony w 1808 r. Napisz, ile wieków upłynęło od tamtego czasu.



4 W tabeli znajduje się lista pięciu największych oczyszczalni ścieków w Polsce i największych miast, które są obsługiwane przez te oczyszczalnie. Zaznacz na osi czasu rok uruchomienia każdej z tych oczyszczalni.

Nazwa oczyszczalni	Miasto	Rok uruchomienia
Zakład „Czajka”	Warszawa	1991
Grupowa Oczyszczalnia Ścieków w Łodzi	Łódź	1994
Zakład Oczyszczania Ścieków Płaszów	Kraków	1974
Centralna Oczyszczalnia Ścieków w Koziegłowach	Poznań	1985
Wrocławska Oczyszczalnia Ścieków „Janówek”	Wrocław	1996



- Podkreśl w tabeli nazwę najstarszej oczyszczalni. Policz na osi czasu i zapisz, ile lat upłynęło od jej uruchomienia.
-

1 Uzupełnij zdania odpowiednimi liczbami.

300 lat to są wieki.


lat to jest 6 wieków.

700 lat to jest wieków.

lat to jest 10 wieków.

2 Napisz, w którym to było wieku. Do zapisu zastosuj znaki rzymskie. Skorzystaj z osi czasu w podręczniku do matematyki na s. 59.

Druk wynaleziono około 1450 r., czyli w wieku.



Praca opisująca, że Ziemia krąży dookoła Słońca, została opublikowana przez Mikołaja Kopernika w 1543 r., czyli w wieku.




W 1878 r. w Stanach Zjednoczonych rozpoczęto masową produkcję żarówek.



To było w wieku.

ENIAC, uznawany za pierwszy komputer stacjonarny, powstał w 1946 r.,



czyli w wieku.

Pierwsze lądowanie na Księżycu miało miejsce w 1969 r. To było



w wieku.

Facebook (czytaj: fejsbuk) powstał w 2004 r.,



czyli w wieku.

3 Karolina urodziła się pierwszego dnia XXI wieku. Oblicz, ile obecnie ma lat. Skorzystaj z osi czasu.



4 Wojtek i jego brat bliźniak mają obecnie razem 20 lat. W którym roku się urodzili? Który to był wiek? Zaznacz poprawną odpowiedź: A, B lub C.

A. XIX B. XX C. XXI



5 Tata Karoliny ma obecnie 39 lat. W którym wieku się urodził? Odpowiedz bez wskazywania dokładnego roku jego urodzenia.

Odpowiedź: