

Dodawanie i odejmowanie w zakresie 10. Klasa 1.

1. Szymek miał 8 koszul. Jedną koszulę dał bratu. Ile koszul zostało Szymkowi?

Szymkowi zostało

 koszul.

2. Ułóż zadania. Oblicz.



6	+	2	=		
8	-	6	=		



4	+	4	=		
8	-	4	=		

3. Wykonaj odejmowanie i sprawdź za pomocą dodawania.



7	-	4	=		
3	+	4	=		



8	-	3	=		
	+	3	=		











	-		=		
	+		=		

4. Na półce w cukierni stało 6 babeczek. Kupiono 2 babeczki. Ile babeczek zostało na półce?

Na półce zostało

 babeczek.

Oceń swoją pracę! Pokoloruj gwiazdkę w odpowiednich miejscach w tabelce.

	Umiem!	Muszę jeszcze popracować!
Liczę, ile przedmiotów jest na rysunku		
Tworzę działania i obliczam wyniki działań na dodawanie i odejmowanie		
Uzupełniam brakujące liczby w działaniach		
Uważnie czytam treść zadania i wyszukuję w nim potrzebne dane		
Tworzę właściwe działanie, zapisuję wynik, uzupełniam odpowiedź	