

Dodawanie i odejmowanie w zakresie 7. Porównywanie liczb. Klasa 1.

1. Policz i napisz, ile jest liter w wyrazach. Wstaw odpowiednie znaki: >, <, =.

foka

4

<

Filip

5

farby

○

telefon

Rafał

○


Felek

trąbka

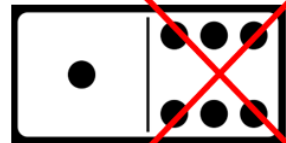
○

flet

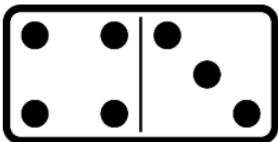
2. Oblicz



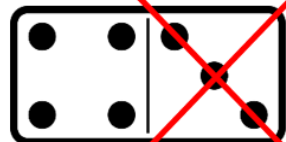
$$1 + 6 =$$



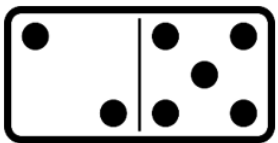
$$7 - 6 =$$



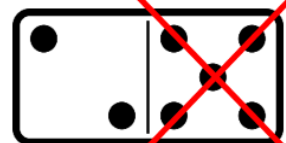
$$=$$



$$=$$



$$=$$



$$=$$

3. Oblicz. Wpisz odpowiednie znaki: =, >, <.

$$\begin{array}{l} 1^3 + 2 = 3 \\ 2 + 4 = 5 \\ 3 + 3 = 5 \\ 5 + 1 = 7 \end{array}$$

$$\begin{array}{l} 7^3 - 4 < 2 \\ 6 - 2 = 4 \\ 5 - 3 = 4 \\ 4 - 1 = 7 \end{array}$$









$$\begin{array}{l} 2^4 + 2 < 5 \\ 4 + 3 = 7 \\ 6 + 1 = 6 \\ 5 + 0 = 5 \end{array}$$

4. Rozwiąż zadanie.

Było 5 obrazków. Ola zabrała 2 obrazki. Ile obrazków zostało?

Zostały  obrazki.

Oceń swoją pracę! Pokoloruj gwiazdkę w odpowiednich miejscach w tabelce.

	<b>Umiem!</b>	<b>Muszę jeszcze popracować!</b>
<b>Obliczam wyniki działań na dodawanie i odejmowanie</b>		
<b>Uważnie czytam treść zadania i wyszukuję w nim potrzebne dane</b>		
<b>Tworzę właściwe działanie, zapisuję wynik, uzupełniam odpowiedź</b>		
<b>Wybieram i zapisuję pytanie, pasujące do treści zadania</b>		
<b>Dokonuję porównania liczb i wstawiam odpowiedni znak (&gt;,&lt;=)</b>	