


Dodawanie w zakresie 5. Klasa 1

1. Oblicz. Wpisz odpowiednie liczby.



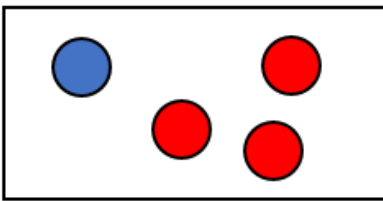
$$4 = 2 + \square$$



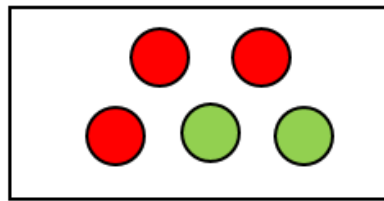
$$5 = \square + \square$$



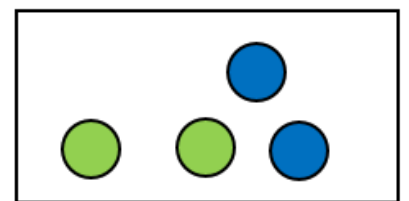
$$3 = \square + \square$$



$$4 = \square + \square$$



$$5 = \square + \square$$



$$\square = \square + \square$$



$$5 = 3 + 1 + 1$$



$$5 = \square + \square + \square$$


2. Dokończ kolorowanie według wzoru. Oblicz.



$$5 = 2 + 2 + 1$$



$$5 = \square + \square + \square$$






$$5 = \square + \square + \square$$



$$5 = \square + \square$$

Oceń swoją pracę! Pokoloruj gwiazdkę w odpowiednich miejscach w tabelce.

|   | <b>Umiem!</b>   | <b>Muszę jeszcze popracować!</b>  |
|---|---|---|
| <b>Liczę ile jest przedmiotów i zapisuję ich ilość liczbą</b>   |  |  |
| <b>Uzupełniam działanie na dodawanie</b>                        |  |  |
| <b>Samodzielnie tworzę działanie na dodawanie i obliczam je</b> |  |  |