

	<p>siedem</p>	
--	---------------	--

Ponumeruj serduszka i trójkąty.

1						
6						

Na parkingu stało 5 samochodów. Dojechały 2 samochody.  
Ile samochodów jest razem?

Razem było  samochodów.

Julek ma 7 cukierków dla Ali i Janka. Jak je rozdać? Uzupełnij według wzoru.













Ala	Janek	
6	1	$7 = 6 + 1$
4		$7 =$
	4	
1		
	5	
5		

Tracing practice for the number 7. The first cell shows a solid 7 with stroke order arrows. The following seven cells show dashed 7s for tracing.

Tracing practice for the number 7. The first row contains 14 dashed 7s for tracing. The second and third rows contain solid 7s for independent practice.

Oceń swoją pracę! Pokoloruj gwiazdkę w odpowiednich miejscach w tabelce.

	<b>Umiem!</b>	<b>Muszę jeszcze popracować!</b>
<b>Rozpoznaję i wskazuję cyfrę siedem</b>		
<b>Potrafę zapisywać cyfrę siedem w kratce</b>		
<b>Zapisuję liczby po kolei, również wspak</b>		
<b>Uzupełniam działania</b>		
<b>Czytam treść zadania i wyszukuję potrzebne dane</b>		
<b>Tworzę odpowiednie działanie i obliczam je</b>	