

Opracowała: Ewa Wysocka

Źródło: „Nasz elementarz – klasa 1”, część 1, strona 32 - 33

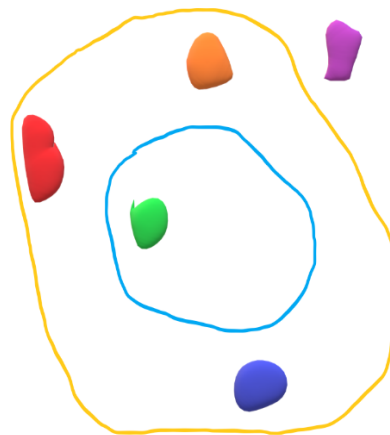
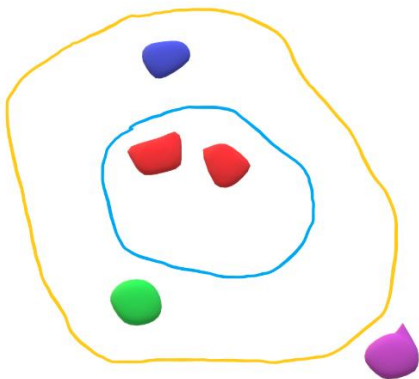
Karta pracy, klasa 1

Temat: Matematyczne gry i zabawy na boisku

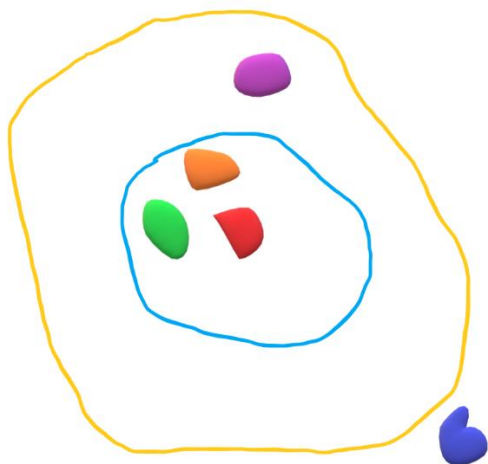
Zadanie 1

Klasa I bawiła się na boisku. Łucja, Robert i Franek rzucali po 5 woreczków z grochem do ułożonych na boisku szarf. Za rzut do niebieskiej szarfy dostawali 5 punktów, do żółtej – 3 punkty, a za rzut poza szarfę – 1 punkt. Które dziecko zdobyło najwięcej punktów?

Łucja



Robert



Franek

Zadanie 2

Natalka narysowała tor z działaniami matematycznymi. Obliczcie, jaka liczba znajdzie się na końcu toru?

20	-3	+2	-1	-8	+4	-10	+6	+7	-9	-8	= ?
----	----	----	----	----	----	-----	----	----	----	----	-----

Zadanie 3

Dzieci grały w różne gry. Pola rysunków oznaczyły liczbami.

Jakie liczby należałoby wpisać w miejsce znaków zapytania?

Jak będziecie na boisku, narysujcie kredą podobne rysunki.

4	5
3	?
?	7
9	?
1	8